

一、對的畫○，錯的打×：每題 1 分，共 10 分

1. ( ) 臺灣的周邊島嶼由於位置、自然環境與居民生活方式等各有差異，因此可以觀察到每個島嶼間不同的文化特色。
2. ( ) 小翔暑假跟家人去蘭嶼旅遊，他們可以看到島上有許多閩南式的建築。
3. ( ) 原住民族傳統命名方式與漢人不同，不同的原住民族命名的方式也不同。
4. ( ) 騎乘機車不戴安全帽並未影響到他人的權利，所以不會被罰款。
5. ( ) 為了慶祝 54 週年校慶大隊接力賽 501 奪冠，全班同學可以喝酒慶祝。
6. ( ) 自己和其他好同學拍攝的合照，可以不經過同意，就分享到網路上。
7. ( ) 公園裡的運動器材因為缺乏維護，導致運動中的奶奶不小心受傷，這時，奶奶可以申請國家賠償。
8. ( ) 河川附近常會發生淹水或洪水災害，所以早期人們的生活盡量遠離河川。
9. ( ) 遮雨棚方便行人避雨，常見於時常下雨的地區，如：位於臺灣北部的基隆市。
10. ( ) 臺灣冬季時，北部因受東北季風影響，平均降雨量多於南部。

二、選擇題：每題 2 分，共 30 分。

1. ( ) 下列何者不是風俗習慣的特色？ ①可以增進個人與群體的歸屬感 ②是長時間生活在一起而形成 ③每個族群的風俗習慣都相同 ④有助於維持人際互動的和諧。
2. ( ) 網路世界也必須遵守相關法律規範，下列網路的使用，何者是正確的方式？ ①隨意上傳同學照片 ②發表不實的言論 ③尊重他人著作權 ④未經同意複製轉貼他人文章。
3. ( ) 下列何者不是興建水庫的目的？ ①有效利用水資源 ②解決缺水問題 ③保護自然環境 ④提供農業灌溉用水。
4. ( ) 下列哪一種社會規範是由政府制定的？ ①宗教信仰 ②倫理道德 ③法律 ④風俗習慣。
5. ( ) 小晏自高雄港搭乘郵輪往南方航行，下列哪一個比較不可能是她要去的國家？ ①菲律賓 ②印尼 ③越南 ④韓國。
6. ( ) 下列哪一項敘述是錯誤的？ ①政府也需要遵守法律 ②兒童與少年有特別的法律保護 ③竊取財物是一種違反法律的行為 ④製造噪音妨害他人安寧會受到坐牢的處罰。
7. ( ) 自古以來河川與人們的生活關係密切，其中在河川的哪一段，會是人口聚集較多，土地利用情形較多樣，形成許多不同的生活樣貌？ ①上游 ②中游 ③下游 ④整條河川都是。

8. ( ) 西螺大橋興建前，只能靠竹筏渡河，使南北往來的交通不太方便，造成這種情形的主要原因是什麼？ ①濁水溪呈現東西流向 ②濁水溪河道淤積 ③濁水溪是臺灣坡度最陡的河流 ④濁水溪失去水上運輸的功能。
9. ( ) 從基隆和臺南的各月平均降雨量圖中，無法得知下列哪一項資訊？ ①臺南全年的雨量較基隆少 ②基隆行政區範圍比臺南大 ③基隆各月雨量較臺南平均 ④基隆冬季雨量較臺南多。
10. ( ) 電線桿上貼著一張圖片，寫著「偷丟垃圾，神明在看」，這是屬於何種社會規範？ ①風俗習慣 ②宗教信仰 ③倫理道德 ④法律。
11. ( ) 有關臺灣氣候災害的敘述，下列哪一項正確？ ①土石流都只發生在山區，所以不會造成人員傷亡或災情 ②颱風帶來的豪雨有時會造成嚴重淹水災情 ③豪雨來得快去得快，不會導致淹水 ④臺灣的梅雨季節大多在每年的一、二月。
12. ( ) 法律規定「騎乘機車要戴安全帽」，最主要的用意為何？ ①保護騎士安全 ②增加市容美觀 ③限制騎士自由 ④減少機車數量。
13. ( ) 下列對土石流的相關敘述，何者正確？ ①山坡上的泥沙和土石常隨洪水傾瀉而下 ②只要飄毛毛雨就表示土石流即將發生 ③土石流只發生於海岸地區 ④土石流造成的災害通常不嚴重。
14. ( ) 下列哪種行為，沒有辦法減少颱風帶來的破壞？ ①注意水土保持 ②整治河流 ③過度開發山坡地 ④留意氣象預報。
15. ( ) 早期先民為了因應淹水災害而發展出一種建築，能讓先民在溪水溢出河道時，可以扛起房屋遷村避難。請問上述建築的名稱為何？ ①土埤厝 ②竹籠茨 ③高腳屋 ④地下屋。

三、看圖回答問題（共 17 分，每格 1 分）

(一)請根據以下三張圖，判斷與哪一種社會規範有關，將代碼(甲、乙、丙)填入空格中：(3 分)

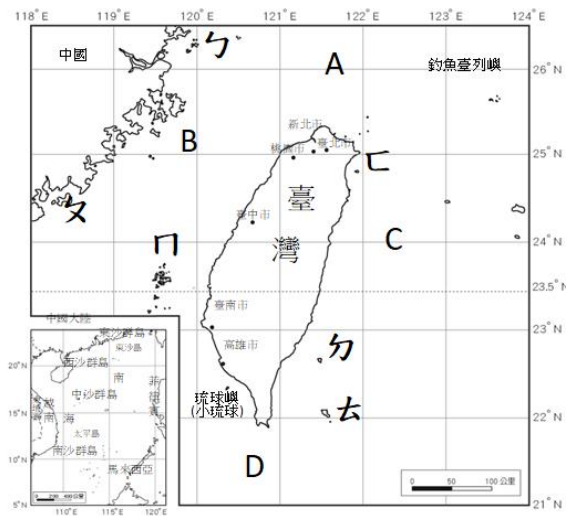
甲. 風俗習慣    乙. 倫理道德    丙. 宗教信仰

圖 1 ( )      圖 2 ( )      圖 3 ( )

※請翻至背面繼續作答！



(二)小晴在圖書館翻閱有關臺灣地理故事書本，書中有一張臺灣地圖，她想從地圖中找到臺灣周圍海域和周邊島嶼的名稱，請你協助她回答下列問題。



1、地圖中的A～D分別代表環繞臺灣四面的海洋，請寫出海洋名稱。(10分，每格1分)

A：東海  
B：臺灣海峽  
C：菲律賓海  
D：南海

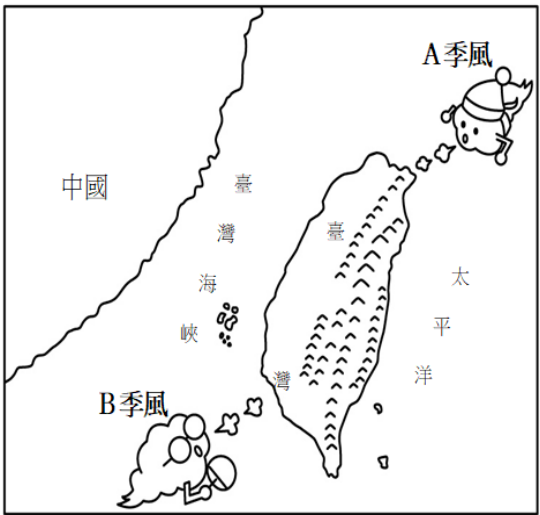
2. 可以如何說明這片海洋的位置？

- (1)巴士海峽在( )的南邊。  
(2)巴士海峽在菲律賓的( )邊。

2、地圖中3. 圖中的ㄅ～ㄏ分別代表臺灣的周邊島嶼，依據位置判斷各島嶼名稱，用代號填入正確的( )中。

- (1) 金門列嶼：( ㄅ )  
(2) 馬祖列嶼：( ㄆ )  
(3) 蘭嶼：( ㄇ )  
(4) 綠島：( ㄏ )  
(5) 龜山島：( )  
(6) 澎湖群島：( )

(二)小喬在圖書館翻閱書籍，看到以下與季風氣候有關的示意圖，請你協助完成這張示意圖。(4分)



從圖中可以看到，臺灣夏季與冬季吹著不同的季風，分別以A、B代號填入相對應的季節，並以文字寫出該季風的名稱。

1. 夏季：代號A，名稱是西南季風  
2. 冬季：代號B，名稱是東北季風

#### 四、閱讀題 (共11分, 詳配分)

(一)閱讀短文，並回答問題。(4分)

西元2020年新冠肺炎疫情蔓延期間，網路上出現了許多消息，例如「○○醫院有新冠肺炎確診病例」、「因原物料做口罩，衛生紙將成為下一波缺貨物資」等，消息一傳開造成許多民眾的恐慌及排隊搶購物資的情形。1、文中的這些消息後來被確認為假消息，散布這些不實消息的人，已經違反了哪一種社會規範，將會受到警方的偵辦？在□中打√。

- ☐①風俗習慣  
☐②倫理道德  
☐③宗教信仰  
☐④法律

2、如果你在網路上看到類似這樣的消息，應該怎麼做？在□中打√。(複選)

- ☐①趕緊轉發給所有人。  
☐②向警方查證或舉報。  
☐③謠言止於智者，不轉傳分享。  
☐④只發給自己的親朋好友。

(二)閱讀文章並回答問題：(4分)

「堰塞湖」是一種因山崩、土石流或熔岩堵塞河谷、河床，積水而形成的湖泊，常見於地震、風災豪雨或火山爆發後形成。例如：西元2009年8月8日，高雄縣甲仙鄉的小林村，因豪雨造成土石混著雨水，覆蓋了部分村落，也截斷附近的楠梓仙溪，形成堰塞湖。隨著豪雨的增加導致堰塞湖潰堤，大量泥水夾帶著土石，又二次覆蓋了全村，讓人們承受了生命及財產的損失。

1. ( ) ①依據上文判斷，小林村可能位於何處？  
甲、平地 乙、低窪地區 丙、山勢陡峭地區  
2. ( ) ②依據上文判斷，造成楠梓仙溪被截斷形成堰塞湖的原因為何？ 甲、風災豪雨 乙、地震 丙、火山爆發

(三)臺灣在不同的地區有不同的氣候表現，也對生活空間有所影響。閱讀下列情況並找出正確答案，在□中打√。(3分)

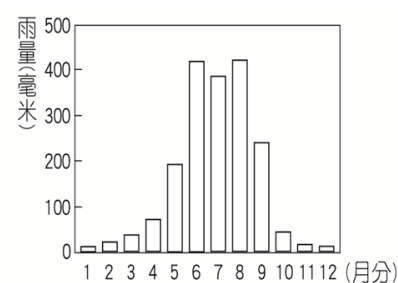
1、小苓居住的地區幾乎全年有雨，冬季時更是陰雨綿綿，每天出門上班時包包中必備雨傘，她有可能居住在下列哪一地區？

- ☐①北部。 ☐②南部。

2、小恩生活的地方四季氣候溫暖，夏季和冬季的氣溫差異並不大，他有可能居住在下列哪一地區？

- ☐①北部。 ☐②南部。

3、下圖是小安居住城市的雨量圖，從雨量分布的情形推測，他有可能居住在下列哪一個城市？



各月平均雨量圖

- ☐①基隆市。 ☐②高雄市。

※請翻至第3頁繼續作答！

五、應用題（共 22 分, 每格 1 分）

1. 人民如果不遵守法律，會受到法律的處罰。下列違法的行為，會被罰款的，請在（    ）中畫「V」；會被判刑坐牢的，請在（    ）中打「△」。
- （    ）①騎乘機車未戴安全帽。
- （    ）②吸毒。
- （    ）③製造噪音妨礙他人安寧。
- （    ）④竊盜。
2. 下列分別屬於河川的哪一個地區的生活空間樣貌？請用代號填入相對應的（    ）中。
- 甲、上游、中游
- 乙、下游
- （    ）①規畫森林遊樂區
- （    ）②興建水庫
- （    ）③聚集較多的住宅與工廠
- （    ）④分布較多的魚塢與農田
3. 下列是關於臺灣氣候災害的敘述，請在正確的□中打√。
- ☐①颱風只會對山地造成災害，對平地沒有影響。
- ☐②颱風所夾帶的豪雨，容易引發土石流。
- ☐③每一年颱風發生的次數都是固定的。
- ☐④土石流常會沖垮房屋，造成民眾生命財產的損失。
4. 下列是旱災時，對於產業活動的影響，敘述正確的□中打√。
- ☐①農田面臨休耕。
- ☐②農民轉作需水量少的農作物。
- ☐③農民轉作需水量多的農作物。
- ☐④工廠使用再生水生產，生產成本增加。
- ☐⑤工廠增加生產量。
5. 下列有關興建水庫的敘述，請在正確的□中打√。
- ☐①臺灣有豐沛的水源，興建水庫是不必要的。
- ☐②部分河川的上游、中游建有水庫。
- ☐③水庫具有儲水、灌溉、觀光等功能。
- ☐④興建水庫的目的是為了更有效利用水資源。
- ☐⑤興建水庫只會對生態環境產生影響，不會影響居民生活空間。

六、簡答題（共 10 分, 詳配分）

1. 請寫出兩個生活在臺灣的不同族群，他們各有什麼不同的文化活動。（4 分）

A: (1)族群名稱: \_\_\_\_\_ 文化活動: \_\_\_\_\_

(2)族群名稱: \_\_\_\_\_ 文化活動: \_\_\_\_\_

2. 兒童及少年福利與權益保障法中提出了哪些權益或提出哪些禁止事項，以保護兒童及少年的身心健全發展？請列舉 3 項。（3 分）

A: (1) \_\_\_\_\_

(2) \_\_\_\_\_

(3) \_\_\_\_\_

3. 下面是臺灣主要河川分布圖，圖中①～③分別指的是哪一條河川？將答案寫在（    ）中。（3 分）



A: ①（    ）

②（    ）

③（    ）

\*\*\*辛苦了，寫完請再檢查三遍\*\*\*